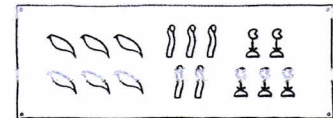




Zahlen der Ägypter

1	I	Strich
10	∥	Fessel
100	☉	Schiffstau
1000	🌸	Lotusblume
10000	👉	Finger
100000	🐸	Kaulquappe
1000000	👤	Gott der Unendlichkeit

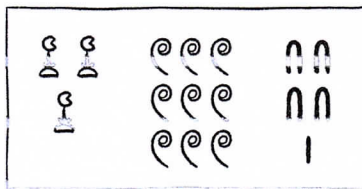


Das ist alles durcheinander.

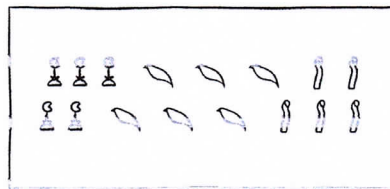
So sind die Zeichen sehr schön angeordnet.



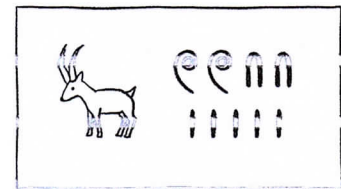
1 Übersetze die ägyptischen Zahlen.



3941




655000



Der Bauer besitzt 225 Ziegen.

2 Gestalte die ägyptischen Zahlen als schöne rechteckige Bilder.


111



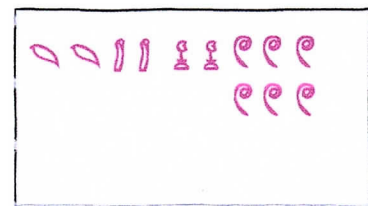
76



32544



222600



3 Schreibe eigene ägyptische Zahlen, dein Partner übersetzt sie.



✎